



**MINISTÉRIO DA EDUCAÇÃO
INSTITUTO FEDERAL DO ESPÍRITO SANTO
REITORIA**

Avenida Rio Branco, 50 – Santa Lúcia – 29056-255 – Vitória – ES
27 3357-7500

**CONCURSO PÚBLICO
EDITAL Nº 01/2013**

Técnico Administrativo em Educação

CARGO:

Assistente de Alunos

Caderno de Provas

Questões Objetivas

INSTRUÇÕES:

- 1- Aguarde autorização para abrir o caderno de provas.
- 2- Após a autorização para o início da prova, confira-a, com a máxima atenção, observando se há algum defeito (de encadernação ou de impressão) que possa dificultar a sua compreensão.
- 3- A prova terá duração máxima de 4h (quatro horas), não podendo o candidato retirar-se com a prova antes que transcorram 2 (duas) horas do seu início.
- 4- A prova é composta de 50 (cinquenta) questões objetivas.
- 5- As respostas às questões objetivas deverão ser assinaladas no Cartão Resposta a ser entregue ao candidato. Lembre-se de que para cada questão objetiva há **APENAS UMA** resposta.
- 6- A prova deverá ser feita, obrigatoriamente, com caneta esferográfica (tinta azul escuro ou preta).
- 7- A interpretação dos enunciados faz parte da aferição de conhecimentos. Não cabem, portanto, esclarecimentos.
- 8- O Candidato deverá devolver ao Fiscal o Cartão Resposta, ao término de sua prova.

LÍNGUA PORTUGUESA

01. Marque a opção que analisa de forma INCORRETA o texto abaixo:

EPITÁFIO

Sultão, gozei festas, carrões, consumo, mulheres mil. Deixo filhos às dezenas, para que acabem logo com o planeta.

(RAUER, 2010. Congresso Internacional da ABRALIC Centro, Centros – Ética, Estética 18 a 22 de julho de 2011 UFPR – Curitiba, Brasil)

- a) Nessa narrativa, o tratamento dado ao tempo é predominantemente linear, a cronologia é marcada pelas formas verbais “gozei” pretérito; “Deixo” e “acabem” presente. A forma verbal “acabem” remete ainda ao modo imperativo, uma ordem para que a humanidade desapareça.
- b) A ambientação, o espaço, tem um papel significativo na determinação do comportamento do narrador-personagem de “Epitáfio”: “festas, carrões e consumo”, itens geralmente associados à vida urbana, a indivíduos que dispõem de bens e capital.
- c) Nessa narrativa sintética, “Sultão” define condição social de que o narrador se mascara e se torna a fantasia arquetípica do homem possuidor de todas as mulheres ao mesmo tempo: “mulheres mil”.
- d) O emprego dos pronomes indefinidos “mil” e “dezenas” reiteram a possibilidade de que o homem, “Sultão”, seja obsessivo, e de que mantenha suas mulheres “presas” pelas correntes da prole, pois o que lhe importa é a composição da ficha contábil: “mil”, “dezenas”, portanto imprecisas e indefinidas.
- e) O narrador desse texto busca a melhor maneira de enredar o narratário: oferece a ele todas as informações para conhecer a visão de mundo de um homem que passou pela vida ao sabor dos desejos. Além disso, o texto é coeso, coerente e objetivo.

Leia o texto com atenção para responder às questões 2 a 7:

<http://educacaodeficiente.blogspot.com.br/2012/12/educai-as-criancas-para-nao-punir-os.htm>



02. Em relação ao texto, podemos afirmar que:

I. é uma crítica à educação brasileira.

II. se não há educação de qualidade, estamos sujeitos a todo tipo de consequência: violência, sofrimento e conflitos.

III. sempre alguém tira proveito da desgraça alheia.

Está **correto** o que se afirma em:

a) Apenas I e II.

b) Apenas I e III.

c) I, II e III.

d) Apenas I.

e) Apenas II.

03. No texto, percebemos uma série de consequências por não haver investimento em educação. **Exceto** em:

a) despreparo de professores.

b) criminalidade juvenil.

c) depredação de patrimônio público e privado.

d) maior responsabilidade política.

e) alienação política do povo.

04. No texto, há a presença da seguinte figura de linguagem:

a) comparação explícita.

b) metonímia.

c) hipérbato.

d) silepse.

e) ironia.

05. No texto, a marcação do tempo verbal é bem definida. Em relação ao modo indicativo,

I. o pretérito indica a forma empregada para descrever o passado frente a um observador. Nesse caso, o falante relata o que aconteceu: não houve investimento em educação, ninguém se responsabilizou pelo fato e por isso não estudou.

II. o presente serve para abordar sobre os fatos que ocorrem frequentemente, descreve uma ação que ocorre no momento que fala: o primeiro, depreda, agride; o segundo, lamenta; o terceiro, não faz nada para melhorar a educação.

III. o futuro exprime o que vai ocorrer. Nesse caso, haverá sofrimento por parte de uns e alegria por parte de outros.

Está **CORRETO** o que se afirma em:

a) Apenas em I e II.

b) Apenas em I e III.

c) I, II e III.

d) Apenas em II.

e) Apenas em II e III.

06. Nas orações: “Tu não te responsabilizaste”; “eu me drogo”; Eles se elegerão” - em relação à colocação pronominal:

- I. em todas as orações, foi empregado o pronome de forma acertada conforme a norma culta da língua.
- II. Na primeira oração, temos um exemplo de próclise, pois a palavra negativa atrai o pronome.
- III. Na segunda oração, deveria ter sido empregada a ênclise, conforme a língua formal.
- IV. Na terceira oração, temos um exemplo de próclise.

Está **CORRETO** o que se afirma em:

- a) Apenas em I e II.
- b) Apenas em I e III.
- c) Apenas em I, II e III.
- d) Apenas em I, II e IV.
- e) I, II, III e IV.

07. Quanto à transitividade dos verbos presentes no texto, marque a opção **CORRETA**.

- a) há verbos com transitividade direta e indireta.
- b) há verbos pronominais, transitivos e intransitivos.
- c) só há verbos intransitivos.
- d) só há verbos transitivos diretos e intransitivos.
- e) só há verbos transitivos indiretos e pronominais.

Leia a tirinha a seguir para responder às questões 8 a 10.



08. Em relação à análise da tirinha, podemos afirmar que:

- I. O salva-vidas apresenta uma atitude preocupada, pois percebe que o banhista está se afogando.
- II. Apresenta uma atitude irônica, pois percebe que o banhista quer apenas se alimentar por isso pergunta se a palavra é com ou sem acento.
- III. A frase do primeiro quadrinho é ambígua, pois a palavra bóia pode significar alimento ou objeto que flutua em ambiente aquático.

Está **INCORRETO** o que se afirma em:

- a) Apenas em I.
- b) Apenas em II.
- c) Apenas em III.
- d) Apenas I e III.
- e) I, II e III.

09. Na nova regra ortográfica, a palavra bóia **não mantém** o acento gráfico pelo mesmo motivo que ocorre com a palavra:

- a) herói
- b) geleia
- c) baiuca
- d) doi
- e) bocaiuva

10. No primeiro quadro, a função da linguagem predominante é:

- a) conativa.
- b) metalinguística.
- c) conotativa.
- d) informativa.
- e) emotiva.

MATEMÁTICA

11. Numa fábrica são produzidos 1500 copos descartáveis em 3 horas. Nas mesmas condições da produção anterior, quantos copos serão produzidos em 7 horas?

- a) 10500 copos
- b) 9000 copos
- c) 4500 copos
- d) 3500 copos
- e) 3000 copos

12. Um Tablet foi vendido com um desconto de R\$ 35,00, sendo esse valor igual a 2,5% do preço original. O preço do Tablet antes do desconto era:

- a) R\$ 300,00 reais
- b) R\$ 700,00 reais
- c) R\$ 875,00 reais
- d) R\$ 1200,00 reais
- e) R\$ 1400,00 reais

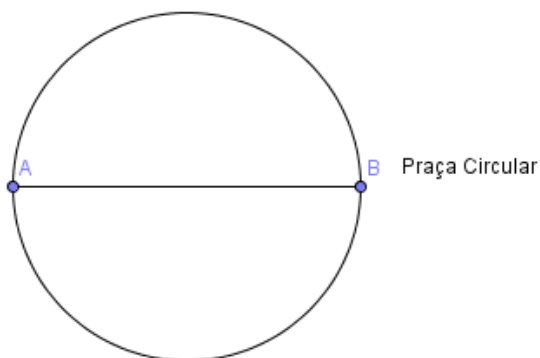
13. Um capital aplicado a juros simples e a taxa de 5% ao ano, dobra em:

- a) 5 anos
- b) 10 anos
- c) 20 anos
- d) 40 anos
- e) 80 anos

14. Uma mulher que está em pé e com os pés no chão observa a base de um livro numa estante que se encontra no mesmo plano que ela. Sabe-se que a distância dos olhos dessa mulher ao chão é 1,5m. Nessas condições, essa mulher vê a base desse livro sob um ângulo de 45° . Ao se aproximar 21 cm da estante ela passa a avistar a base do mesmo livro sob um ângulo de 60° . A que altura em relação ao chão está o livro? (Considere nessa questão: $\sqrt{3} = 1,7$)

- a) 1,61 m
- b) 1,79 m
- c) 1,80 m
- d) 1,95m
- e) 2,01 m

15. A figura a seguir representa uma praça circular de diâmetro AB que mede 2km. Elias e Marcos estão no ponto A dessa praça e querem chegar ao ponto B dessa praça. Para chegar ao ponto B, Elias seguirá pelo segmento \overline{AB} e Marcos contornará a praça, fazendo o trajeto do arco \widehat{AB} . Sabendo que Elias fará o trajeto a uma velocidade de 6 km/h e Marcos fará o trajeto a uma velocidade de 10 km/h, assinale a alternativa que indica qual dos amigos chegou primeiro ao ponto B e o tempo que levou para fazer o trajeto. (considere $\pi = 3,14$)



- a) Marcos, 20'
- b) Marcos, 18,84'
- c) Elias, 18,54'
- d) Elias, 18'
- e) Marcos e Elias chegaram ao mesmo tempo e levaram 17' para completar o trajeto

16. As diagonais de um paralelogramo medem $4\sqrt{3}$ m e 9m e formam um ângulo de 60° . A área do paralelogramo, em m^2 , é:

- a) $18\sqrt{3}m^2$
- b) $27m^2$
- c) $36m^2$
- d) $36\sqrt{3}m^2$
- e) $54m^2$

17. Os elementos da sequência $(x+2, 3x, x^2-2)$, nessa ordem, forma uma progressão aritmética. Se essa sequência também representa as medidas dos lados de um triângulo, em metros, então a medida do menor lado desse triângulo, em metros, é:

- a) 7
- b) 6
- c) 5
- d) 4
- e) 3

18. Um cilindro de altura de medida 1dm e uma esfera de raio de medida 3dm são sólidos equivalentes, desta forma o cilindro tem raio de medida igual a :

- a) 3 dm
- b) $3\sqrt{3}$ dm
- c) 6 dm
- d) 8 dm
- e) 9 dm

19. Um restaurante, a fim de atrair mais clientes, oferece como cortesia um copo de refrigerante e o cliente pode escolher entre dois sabores: sabor A e sabor B. Após um mês de promoção, o dono do restaurante percebeu que: 18% dos clientes gostam dos dois sabores, 50% dos clientes gostam do sabor B e 10% dos clientes não bebem refrigerantes. A porcentagem de clientes que bebem apenas o sabor A é de:

- a) 22%
- b) 32%
- c) 40%
- d) 46%
- e) 50%

20. A raiz da equação $2(\sin x)^2 - \sin x - 1 = 0$, no intervalo $[0, \pi]$, em radianos, é:

- a) $\pi/2$
- b) $\pi/6$
- c) $\pi/3$
- d) π
- e) $3\pi/2$

INFORMÁTICA

Quando necessário considere a versão do Pacote MS-Office 2007/2010 e LibreOffice 4, Internet Explorer 9 e Mozilla Firefox 6.

21. Leia a notícia e responda a seguir.

Notícia I: Lançado o 1º eBook interativo de aventuras históricas no Brasil



Voltado para todos os públicos – em especial ao juvenil – o primeiro eBook de aventuras históricas interativas do Brasil chegou às principais livrarias virtuais em dezembro de 2012. Caçada nos *Mares Proibidos – Aventuras na Rota da Índia* foi criado com a proposta de divertir e educar, já que compreende conteúdo indicado pelo Ministério da Educação (MEC). É o primeiro da série Spadah (Sistema Paradidático de Aventura de Decisão em Ambiente Histórico), desenvolvida pelos jornalistas mineiros Mateus Parreiras e Paola Carvalho.

Esse livro possui 23 finais diferentes e o leitor navega por diferentes momentos históricos, podendo decidir que rumo seguir, já que se torna um personagem da trama.

Fonte: Site Spadah (texto adaptado)

Disponível em: <http://www.spadah.com.br/imprensa/>

Hoje, as tecnologias de comunicação e informação (TIC) vêm sendo utilizadas em contextos relevantes da vida pessoal dos cidadãos brasileiros. A partir da leitura do texto, pode-se inferir que:

- o livro diz respeito à comunicação, à educação, ao trabalho e ao lazer.
- o livro diz respeito somente ao lazer.
- o livro diz respeito somente à comunicação, à educação e ao trabalho.
- o livro diz respeito somente à educação e ao lazer.
- o livro diz respeito somente à educação.

22. Spam



Spam é o termo usado para se referir aos e-mails não solicitados, que geralmente são enviados para um grande número de pessoas. Quando este tipo de mensagem possui conteúdo exclusivamente comercial também é referenciado como UCE (*Unsolicited Commercial E-mail*).

Algumas das formas como você pode ser afetado pelos problemas causados pelos *spams* são: perda de mensagens importantes; conteúdo impróprio ou ofensivo; gasto desnecessário de tempo; não recebimento de e-mails; classificação errada de mensagens; má utilização dos servidores; inclusão em listas de bloqueio; investimento extra em recursos, dentre outros.

É muito importante, portanto, identificá-los e saber se prevenir!

Fonte: Site CERT.br (texto)

Disponível em: <http://cartilha.cert.br/riscos/>

Analise as afirmativas sobre o assunto:

I) Os tipos de spam mais comuns atualmente são correntes, boatos, lendas urbanas, propagandas, ameaças, pornografia, códigos maliciosos, fraudes e golpes, *spIM* (*spam via Instant Messenger*), *spam* via redes sociais e *spit* (*spam over internet telephony*).

II) Os *spammers* utilizam diversas técnicas para coletar endereços de e-mail, mas a mais perniciosa é conhecida como *Antimalware*.

III) Dicas interessantes sugerem que você utilize as opções de privacidade das redes sociais, utilize a opção de “Cco” (Com cópia oculta) ao enviar e-mail para grandes quantidades de pessoas, use filtros por meio de programas instalados no servidor da rede ou em seu computador, seja cuidadoso ao fornecer seu endereço de e-mail, não siga links recebidos em spams e desabilite a abertura de imagens em e-mails HTML.

Está correto o que se afirma em:

- a) I e II.
- b) II e III.
- c) III e IV.
- d) II e IV.
- e) I e III.






23. Para se pesquisar um assunto específico nos sites disponíveis na Internet, a ferramenta do Windows 7 mais apropriada é:

- a) *Windows Explorer*.
- b) *MSN*.
- c) *Google*.
- d) *Microsoft Outlook*.
- e) *Skype*.

24. Listas de Atalhos são listas de itens recentes, como programas ou arquivos, pastas ou sites, organizados de acordo com o programa que você usa para abri-los. Por padrão, não há nenhum programa ou arquivo fixado. Apenas depois de aberto a primeira vez é que ele será exibido no Menu Iniciar. Mas, podemos remover ou fixar os programas que mais usamos, organizando a Lista de Atalho no Menu Iniciar de acordo com a nossa necessidade. Qual o procedimento correto na gerência de uma Lista de Atalho?

- a) Clicar no “Menu Iniciar”, depois clicar com o botão direito no ícone do programa recém utilizado e, em seguida, na opção “Remover dessa lista” para desinstalar o programa.
- b) Clicar no “Menu Iniciar”, depois clicar no ícone do programa recém utilizado e apertar a tecla “Delete”.
- c) Clicar no “Menu Iniciar”, depois em “Todos os Programas”, em seguida, clicar com o botão direito do mouse sobre o programa desejado e escolher a opção “Fixar na Barra de Tarefas”.
- d) Clicar no “Menu Iniciar”, depois em “Todos os Programas”, em seguida, clicar com o botão direito do mouse sobre o programa desejado e escolher a opção “Enviar para a Área de Trabalho”.
- e) Clicar “Todos os Programas”, em seguida, clicar com o botão direito do mouse sobre o programa desejado e escolher a opção “Criar Atalho”.

25. No *Microsoft Office Word* e *Libre-Office Write*, qual ícone permite mostrar os caracteres não imprimíveis do documento, mostrando marcas de parágrafos e outros símbolos ocultos?

- a) 
- b) 
- c) 
- d) 
- e) 

26. Assinale a opção que contém o cálculo correto para a célula I4 da planilha do Microsoft *Office Excel 2007* e Calc do *Libre-Office 4* apresentada na figura a seguir, considerando que a situação do aluno Bernardo para ser aprovado tem que ter Frequência maior ou igual a 75% e Média maior ou igual a 7.

	A	B	C	D	E	F	G	H	I
1	Demonstrativo de Notas								
2									
3	Nome	Data Nasc.	1º Bim	2º Bim	3º Bim	4º Bim	Frequência	Média	Situação
4	Bernardo	07/09/1973	9,5	7,0	6,5	7,0	85%	7,5	Aprovado
5	Felippe	09/09/1981	6,5	8,0	6,5	7,0	80%	7,0	Aprovado
6	Camila	23/05/1987	2,0	9,0	5,5	5,0	76%	5,4	Recuperação
7	Leonardo	12/06/1976	1,0	4,0	4,5	5,0	53%	3,6	Recuperação
8	Adriana	12/12/1975	10,0	7,0	5,0	8,0	92%	7,5	Aprovado
9	André	09/06/1976	5,5	7,5	6,0	9,0	95%	7,0	Aprovado
10	Valéria	31/07/1970	8,5	7,0	7,0	10,0	65%	8,1	Recuperação
11									
12	Maior Nota de cada bimestre:		10,0	9,0	7,0	10,0			
13	Menor Nota de cada bimestre:		1,0	4,0	4,5	5,0			
14	Média de cada bimestre:		6,1	7,1	5,9	7,3			
15	Qtde Alunos Aprovados:		4						
16	Qtde Alunos Recuperação:		3						

- a) =SOMA(H4>=7;G4>=0,75;"Aprovado";"Recuperação")
b) =(H4>=7;G4>=0,75) E ("Aprovado";"Recuperação")
c) =CONT.SE((H4>=7;G4>=0,75);"Aprovado";"Recuperação")
d) =SE(E(H4>=7;G4>=0,75);"Aprovado";"Recuperação")
e) =G4;H4 (E(H4>=7;G4>=0,75);"Aprovado";"Recuperação")

27. Um Assistente de Aluno e um Auxiliar em Assuntos Educacionais precisaram realizar em uma escola pública as seguintes tarefas:

- I. tratar, classificar, organizar informações e realizar manutenção do acervo;
- II. apresentar em reunião os dados classificados e catalogados;
- III. pesquisar fontes de informação em bibliotecas virtuais.

As ferramentas de informática mais adequadas para ajudá-los a solucionar esses problemas são, respectivamente:

- a) Calc, Writer, Windows explorer.
- b) Excel, Word, Internet Explorer.
- c) Writer, Calc, Windows explorer.
- d) Word, Internet Explorer, Calc.
- e) Excel, Power Point, Internet Explorer.

28. No MS-Power Point 2007, em relação à opção Personalizar Animação, marque a opção em desacordo com as possibilidades do aplicativo.

- a) É possível aprimorar os efeitos com sons e também, após a animação, ocultar o objeto animado.
- b) É possível configurar o início da animação com o clique do mouse.
- c) É possível aplicar efeitos de animação no plano de fundo do slide.
- d) É possível reordenar animações já configuradas.
- e) É possível estabelecer um atraso/tempo de demora ao iniciar uma animação.

29. Ao se navegar pela Internet, vários sites abrem janelas extras conhecidas como *Pop-up*, que, muitas vezes, possuem propagandas não autorizadas pelo internauta. No Internet Explorer 9, podemos bloquear a abertura de Pop-ups da seguinte maneira:

- a) Clicar na janela Pop-up com o botão direito do mouse e escolher a opção “Não permitido”.
- b) Clicar no menu Ferramentas, Bloqueador de Pop-ups e acionar a opção “Ativar Bloqueador de Pop-ups”.
- c) Clicar em Ctrl + F5.
- d) Atualizar o Antispam.
- e) Clicar no menu Favoritos, Bloqueador de Pop-ups e acionar a opção “Ativar Bloqueador de Pop-ups”.

30. É possível configurar o site de abertura dos navegadores de Internet. No Mozilla Firefox, essa configuração deve seguir os seguintes passos:

- a) Clicar no menu Favoritos, Bloqueador de Pop-ups e acionar a opção “O Firefox deve começar em”, incluindo o endereço do site que passará a ser padrão na abertura do navegador.
- b) Clicar na opção Editar, Opções e, na guia Geral, acionar opção “O Firefox deve começar em”, incluindo o endereço do site que passará a ser padrão na abertura do navegador.
- c) Clicar em Ctrl + F5 e incluir o endereço do site que passará a ser padrão na abertura do navegador.
- d) Atualizar o endereço do site, que passará a ser padrão na abertura do navegador no antispam residente.
- e) Clicar na opção Ferramentas, Opções e, na guia Geral, incluir no espaço Página inicial o endereço do site que passará a ser padrão na abertura do navegador.

LEGISLAÇÃO

31. Considerando os Direitos e Deveres Individuais e Coletivos, dispostos no artigo 5º da Constituição da República Federativa do Brasil, analise as afirmativas abaixo.

I. A lei punirá qualquer discriminação atentatória dos direitos e liberdades fundamentais.

II. É assegurado o direito de resposta, proporcional ao agravo, além da indenização por dano material, moral ou à imagem.

III. É livre o exercício de qualquer trabalho, ofício ou profissão, atendidas as qualificações profissionais que a lei estabelecer.

IV. Conceder-se-á mandado de segurança para proteger direito líquido e certo, quando o responsável pela ilegalidade ou abuso de poder for agente de pessoa jurídica de direito privado.

Estão corretas apenas as afirmativas:

a) I e II.

b) I, II e III.

c) II, III e IV.

d) I e III.

e) I e IV.

32. Em conformidade à Constituição da República Federativa do Brasil, analise as afirmativas abaixo.

I. Os cargos de Ministro do Superior Tribunal de Justiça são privativos de brasileiros natos.

II. São brasileiros natos todos os nascidos na República Federativa do Brasil, ainda que de pais estrangeiros, desde que estes não estejam a serviço de seu país.

III. São símbolos da República Federativa do Brasil a bandeira, o hino, as armas e o selo nacionais.

IV. Constitui uma das condições de elegibilidade, na forma da lei, a idade mínima de 21 (vinte e um) anos para vereador.

Estão corretas apenas as afirmativas:

a) I e II.

b) I e III.

c) I e IV.

d) II e III.

e) I, III e IV.

33. No que diz respeito à Administração Pública, conforme disposições da Constituição da República Federativa do Brasil, fica assegurado que:

I. o prazo de validade do concurso público será de até dois anos, prorrogável uma vez, por igual período.

II. durante o prazo improrrogável previsto no edital de convocação, aquele aprovado em concurso público de provas ou de provas e títulos será convocado com prioridade sobre novos concursados para assumir cargo ou emprego, na carreira.

III. é vedada a acumulação remunerada de cargos públicos, não se estendendo tal vedação aos empregos e funções abrangidos pelas autarquias, fundações, empresas públicas, sociedades de economia mista e sociedades controladas pelo poder público.

IV. as pessoas jurídicas de direito público e as de direito privado prestadoras de serviços públicos responderão pelos danos que seus agentes, nessa qualidade, causarem a terceiros, assegurado o direito de regresso contra o responsável nos casos de dolo ou culpa.

Estão corretas apenas as afirmativas:

a) I e III.

b) I, II e III.

c) I, III e IV.

d) II, III e IV.

e) I, II e IV.

34. Analise as opções abaixo e, em seguida, assinale aquela que não está de acordo com os textos legais.

- a) Conforme disposição da Lei 8.112/90, a idade mínima para investidura em cargo público é de 18 (dezoito) anos.
- b) A Lei 8.112/90 veda a tomada de posse por procuração.
- c) Por expressa disposição da Lei 8.027/90, a penalidade de suspensão aplicada ao servidor acarreta o cancelamento automático do valor da sua remuneração, durante o período de vigência da pena.
- d) De acordo com a Lei 8.027/90, que cuida das normas de conduta dos servidores públicos civis da União, das Autarquias e das Fundações Públicas, o servidor que leva para o local de trabalho produtos de seu sítio, produtos de beleza e relógios, para lá vendê-los, está sujeito à pena de suspensão por até 90 (noventa) dias. E na mesma pena incorre aquele que os compra.
- e) Conforme disposição da Lei 8.112/90, o servidor empossado tem prazo de 15 (quinze) dias, a partir da posse, para entrar em exercício, sob pena de exoneração do cargo.

35. No que diz respeito aos direitos e vantagens dos servidores públicos civis da União, estabelecidos na Lei 8.112/90, analise as afirmativas.

- I) Remuneração é a retribuição pecuniária pelo exercício de cargo público, com valor fixado em lei.
- II) As indenizações não se incorporam ao vencimento ou provento para qualquer efeito.
- III) Ajuda de custo, diárias e transporte constituem indenizações do servidor.
- IV) O servidor perderá a remuneração do dia em que faltar ao serviço, sem motivo justificado.

Estão corretas apenas as afirmativas:

- a) II, III e IV.
- b) I, II, III e IV.
- c) I e IV.
- d) I, II e III.
- e) II e IV.

36. De acordo com o Código de Ética Profissional do Servidor Público Civil do Poder Executivo Federal, anexo ao Decreto 1.171/1994, analise as afirmativas abaixo.

- I) O trabalho desenvolvido pelo servidor público perante a comunidade deve ser entendido como acréscimo ao seu próprio bem-estar, já que, como cidadão, integrante da sociedade, o êxito desse trabalho pode ser considerado como seu maior patrimônio.
- II) Toda ausência injustificada do servidor de seu local de trabalho é fator de desmoralização do serviço público, o que quase sempre conduz à desordem nas relações humanas.
- III) Ser probo, reto, leal e justo, demonstrando toda a integridade do seu caráter, escolhendo sempre, quando estiver diante de duas opções, a melhor e a mais vantajosa para o bem comum, é dever do servidor.
- IV) O servidor pode ser conivente com erro ou infração ao Código de Ética em função de seu espírito de solidariedade.

Estão corretas apenas as afirmativas:

- a) I, II e IV.
- b) I, III e IV.
- c) I e II.
- d) I, II e III.
- e) II e III.

37. São privativos de brasileiro nato os cargos, exceto:

- a) de Presidente da República, de Oficial das Forças Armadas e Ministro do Supremo Tribunal Federal.
- b) de Vice-Presidente da República, Ministro do Estado da Defesa e Presidente da Câmara dos Deputados.
- c) de Ministro do Supremo Tribunal Federal, Presidente do Senado e Presidente da República.
- d) de Oficial das Forças Armadas, Vice-Presidente do Senado e Ministro do Estado da Defesa.
- e) de Ministro do Supremo Tribunal Federal, Oficial das Forças Armadas e Ministro do Estado da Defesa.

38. O servidor público estável só perderá o cargo:

I. em virtude de sentença judicial transitada em julgado.

II. mediante processo administrativo, sem observância da ampla defesa.

III. mediante procedimento de avaliação periódica de desempenho, na forma de lei complementar, assegurada a ampla defesa.

IV. em virtude de sentença judicial passível de recurso.

Estão corretos os itens:

a) I e III.

b) II e IV.

c) I, II e IV.

d) II e III.

e) I, III e IV.

39. No que tange à livre associação profissional ou sindical, segundo a Constituição Federal, deve ser observado que, **EXCETO**:

a) o aposentado filiado tem direito a votar e ser votado nas organizações sindicais;

b) é facultada a participação dos sindicatos nas negociações coletivas de trabalho;

c) é vedada a dispensa do empregado sindicalizado a partir do registro da candidatura a cargo de direção ou representação sindical e, se eleito, ainda que suplente, até um ano após o final do mandato, salvo se cometer falta grave nos termos da lei.

d) ninguém é obrigado a filiar-se ou a manter-se filiado a sindicato.

e) é vedada a criação de mais de uma organização sindical, em qualquer grau, representativa de categoria profissional ou econômica, na mesma base territorial, que será definida pelos trabalhadores ou empregadores interessados, não podendo ser inferior à área de um Município

40. A soberania popular será exercida pelo sufrágio universal e pelo voto direto e secreto, com valor igual para todos, mediante:

a) plebiscito, referendo e iniciativa popular.

b) referendo, alistamento eleitoral e o voto.

c) plebiscito, filiação partidária e iniciativa popular.

d) iniciativa popular, referendo e alistamento eleitoral.

e) referendo, plebiscito e alistamento eleitoral.

CONHECIMENTO ESPECÍFICO

41. Conforme o Estatuto da Criança e do Adolescente, considera-se criança, a pessoa:

- a) com idade entre 0 e 6 anos.
- b) com idade entre 6 e 12 anos.
- c) com idade entre 6 e 14 anos.
- d) com até 12 anos incompletos de idade.
- e) com até 14 anos incompletos de idade.

42. No que diz respeito ao Direito à Vida e à Saúde, estabelecido no Estatuto da Criança e do Adolescente, é assegurado:

- I. à gestante, através do Sistema Único de Saúde, o atendimento pré e perinatal;
- II. que o Poder Público, e apenas este, propicie condições adequadas ao aleitamento materno, incluídos os filhos de mães submetidas à medida privativa de liberdade;
- III. alojamento conjunto, possibilitando ao neonato a permanência junto à mãe, oferecido obrigatoriamente pelos hospitais e demais estabelecimentos de atenção à saúde de gestantes, públicos e particulares;
- IV. atendimento integral à saúde da criança e do adolescente, por intermédio do Sistema Único de Saúde, garantido o acesso universal e igualitário às ações e serviços para promoção, proteção e recuperação da saúde, não estando o poder público incumbido de fornecer gratuitamente àqueles que necessitarem os medicamentos, próteses e outros recursos relativos ao tratamento, habilitação ou reabilitação.

Estão corretas **apenas** as afirmativas:

- a) I e III.
- b) I, II e III.
- c) I, III e IV.
- d) II e IV.
- e) III e IV.

43. No que diz respeito ao Direito à Educação, à Cultura, ao Esporte e ao Lazer, estabelecido no Estatuto da Criança e do Adolescente, é assegurado:

- I. direito de contestar critérios avaliativos, podendo recorrer às instâncias escolares superiores;
- II. oferta de ensino noturno regular, adequado às condições do adolescente trabalhador;
- III. que os maus-tratos envolvendo seus alunos serão resolvidos pelos dirigentes de estabelecimentos de ensino fundamental;
- IV. que os municípios, com apoio dos Estados e da União, estimularão e facilitarão a destinação de recursos e espaços para programações culturais, esportivas e de lazer voltadas para a infância e a juventude.

Estão corretas **apenas** as afirmativas:

- a) I e IV.
- b) I, II e IV.
- c) II e IV.
- d) III e IV.
- e) I, III e IV.

44. São consideradas medidas socioeducativas, previstas no Estatuto da Criança e do Adolescente, **exceto**:

- a) Advertência.
- b) Obrigação de reparar o dano.
- c) Prestação de serviços à comunidade.
- d) Internação em estabelecimento correccional.
- e) Liberdade assistida.

45. Constituem direitos do aluno regularmente matriculado no Instituto Federal do Espírito Santo, de acordo com o Código de Ética e Disciplina do Corpo Discente do IFES:

I. tomar conhecimento, por intermédio de seus professores ou tutores e do sistema acadêmico, de notas, frequência e medidas disciplinares em cada período letivo, exceto o resultado final, que será divulgado pelo setor responsável no *campus* ou polo e por meio do sistema acadêmico;

II. requerer matrícula, transferência, renovação, cancelamento e trancamento de matrícula, quando maior de idade ou, quando menor, por intermédio do responsável, dentro do prazo determinado no calendário acadêmico, no setor competente do *campus* ou polo;

III. requerer ao setor competente do *campus* ou polo uma segunda oportunidade de avaliação, até 10 (dez) dias úteis após cessado o impedimento, quando por motivo justificável não tenha comparecido à primeira;

IV. ter reposição das aulas quando da ausência do professor ou tutor responsável pela disciplina, exceto em caso de licença médica, neste caso desprezando-se a carga horária mínima da disciplina.

Estão corretas as disposições:

a) I e IV.

b) I e II.

c) I, II e III.

d) II, III e IV.

e) III e IV.

46. Cláudio Bontempo, aluno do IFES, participando dos jogos estudantis disputados entre os *campi* do IFES, na equipe de futebol de salão, trazia consigo uma garrafa com vodka, da qual, após cada jogo, bebia para comemorar o resultado. Examinando a conduta do aluno, de acordo com o Código de Ética e Disciplina do Corpo Discente do IFES, Cláudio praticou:

a) ato de indisciplina leve, passível de aplicação de medida educativa disciplinar.

b) ato infracional, passível de aplicação de medida educativa disciplinar.

c) ato de indisciplina médio, passível de aplicação de medida educativa disciplinar.

d) ato de indisciplina grave, passível de aplicação de medida educativa disciplinar.

e) ato de indisciplina gravíssimo, passível de aplicação de medida educativa disciplinar.

47. Segundo o Código de Ética e Disciplina do Corpo Discente do IFES, as medidas educativas disciplinares devem ser aplicadas ao educando, observando-se a sua idade, grau de maturidade, histórico disciplinar e gravidade da falta.

Sobre as medidas educativas, assinale a opção **incorreta**.

a) O aplicador das medidas educativas encaminhará o caso ao setor competente para seu registro em documento oficial e sistema acadêmico.

b) O setor competente dará conhecimento aos pais da medida educativa disciplinar aplicada, no caso de aluno menor de idade, e aos seus professores ou tutores.

c) O Conselho de Ética e Disciplina do Corpo Discente dos cursos de Ensino a Distância será aquele no qual está lotada a coordenação do Curso.

d) A única medida educativa que pode ser realizada pelo professor é a retirada do aluno de sala de aula, laboratório ou atividade em curso e encaminhá-lo ao setor responsável no *campus* ou polo.

e) As medidas para atos de indisciplina graves e atos infracionais são aplicadas pelo Diretor.

48. Os alunos regularmente matriculados, Portadores de Necessidades Educacionais Específicas – PNEE, têm o direito de solicitar previamente, segundo o Código de Ética e Disciplina do Corpo Docente do IFES:

- I. adaptação de prova escrita e flexibilização de sua correção.
- II. adaptação de recursos físicos, limitada aos ambientes internos do *campus* ou polo, inclusive mobiliário, excluída a reserva de vaga em estacionamento.
- III. concessão de dilatação de prazo para conclusão de cursos, limitado a 100% (cem por cento) do tempo máximo de duração fixada para cada curso.
- IV. flexibilização/tempo adicional para realização das provas, de acordo com a limitação do aluno.

Estão corretas **apenas** as afirmativas:

- a) I e III.
- b) I e IV.
- c) I, II e III.
- d) II, IV.
- e) II, III e IV.

49. No que diz respeito aos Princípios e Fins da Educação Nacional, por disposição da Lei de Diretrizes e Bases da Educação Nacional, o ensino tem por base os seguintes princípios, dentre outros:

- I. diversidade de condições para o acesso e permanência na escola;
- II. valorização do profissional da educação escolar;
- III. respeito à liberdade e apreço à tolerância;
- IV. valorização da experiência extra-escolar.

Estão corretas as disposições:

- a) I, II e III.
- b) I, III e IV.
- c) II, III e IV.
- d) I e IV.
- e) I e III.

50. No que diz respeito à Organização da Educação Nacional, incumbe à União, exceto:

- a) elaborar o Plano Nacional de Educação, em colaboração com os Estados, o Distrito Federal e os Municípios;
- b) organizar, manter e desenvolver os órgãos e instituições oficiais do sistema federal de ensino e o dos Territórios;
- c) coletar, analisar e disseminar informações sobre a educação;
- d) baixar normas gerais sobre cursos de graduação e pós-graduação;
- e) assegurar o ensino fundamental e oferecer, com prioridade, o ensino médio.



**MINISTÉRIO DA EDUCAÇÃO
INSTITUTO FEDERAL DO ESPÍRITO SANTO
REITORIA**

Avenida Rio Branco, 50 – Santa Lúcia – 29056-255 – Vitória – ES

27 3227-5564

CONCURSO PÚBLICO

EDITAL Nº 01/2013

FOLHA DE RESPOSTA (RASCUNHO)

Questão	Resposta	Questão	Resposta	Questão	Resposta	Questão	Resposta	Questão	Resposta
01		11		21		31		41	
02		12		22		32		42	
03		13		23		33		43	
04		14		24		34		44	
05		15		25		35		45	
06		16		26		36		46	
07		17		27		37		47	
08		18		28		38		48	
09		19		29		39		49	
10		20		30		40		50	



MINISTÉRIO DA EDUCAÇÃO
INSTITUTO FEDERAL DO ESPÍRITO SANTO
REITORIA
Avenida Rio Branco, 50 – Santa Lúcia – 29056-255 – Vitória – ES
27 3357-7500

EDITAL 01/2013
GABARITO PÓS-RECURSOS

CARGO: ASSISTENTE DE ALUNOS

GABARITO

Questão	Resposta	Questão	Resposta	Questão	Resposta	Questão	Resposta	Questão	Resposta
01	D	11	D	21	D	31	B	41	D
02	A	12	E	22	ANULA	32	D	42	A
03	D	13	C	23	ANULA	33	E	43	B
04	E	14	E	24	ANULA	34	B	44	D
05	C	15	B	25	C	35	A	45	B
06	D	16	B	26	D	36	D	46	D
07	B	17	ANULA	27	ANULA	37	D	47	E
08	E	18	C	28	C	38	A	48	B
09	B	19	C	29	B	39	B	49	C
10	A	20	A	30	E	40	A	50	E